

**ПЕРВЫЙ ТУР**  
**11 класс**  
**Максимальная оценка – 100 баллов**  
**Время на подготовку – 3 часа.**

**1. [4 балла]**

Распределите потомков Ивана Калиты, имена которых приведены ниже, по поколениям (впишите буквы, соответствующие правильным ответам):

Сыновья \_\_\_\_\_

Внуки \_\_\_\_\_

Правнуки \_\_\_\_\_

Праправнуки \_\_\_\_\_

- а) Дмитрий Красный
- б) Дмитрий Донской
- в) Иван Красный
- г) Василий Темный
- д) Дмитрий Шемяка
- е) Василий I
- ж) Василий Косой
- з) Юрий Галицкий
- и) Симеон Гордый

**2. [3 балла]**

Соотнесите имена древнерусских писателей и названия их произведений. Ответ оформите в виде таблицы, выявив лишний элемент (не имеющий соответствия).

- 1. Митрополит Илларион
- 2. И. С. Пересветов
- 3. Сильвестр
- 4. А. М. Курбский
- 5. Авраамий Палицын
- 6. Митрополит Макарий

А) «Большая челобитная»

Б) «Сказание о приходе под Троицкий Сергиев монастырь...»

В) Слово «О Законе, через Моисея данном, и о Благодати и Истине через Иисуса Христа явленной...»;

Г) «Домострой»;

Д) «История о великом князе Московском: то, что слышали мы от достоверных людей, и то, что видели собственными глазами».

Имя						
Произведение						

**3. [2 балла]**

В ходе какого из перечисленных ниже путешествий русские корабли впервые пересекли экватор?

А. Путешествие Афанасия Никитина «за три моря»

Б. Экспедиция Н.П.Резанова в Испанскую Калифорнию на кораблях «Юнона» и «Авось»

В. Путешествие инок старообрядческого Топозерского монастыря Марка «в Опоньское царство»

Г. Первая русская кругосветная экспедиция под командованием И.Ф.Крузенштерна и Ю.Ф.Лисянского

- Д. Экспедиция Ф.Ф.Беллингаузена и М.П.Лазарева в «южнополярные моря»  
 Е. Плавание М.П.Шпанберга к берегам Японии (в составе Великой Северной экспедиции)  
 Ж. Первое плавание Н.Н. Миклухо-Маклая к берегам Новой Гвинеи.

Ответ: \_\_\_\_\_

**4. [4 балла]**

Перед Вами список ученых. Только двое из них никогда не являлись действительными членами или членами-корреспондентами Императорской академии наук в Петербурге? Назовите этих двух ученых, дайте объяснение Вашему решению. Ответ оформите в виде таблицы.

- А. Леонард Эйлер  
 Б. Константин Эдуардович Циолковский  
 В. Владимир Иванович Вернадский  
 Г. Иван Петрович Павлов  
 Д. Михаил Васильевич Ломоносов  
 Е. Николай Егорович Жуковский  
 Ж. Сергей Михайлович Соловьев  
 З. Дмитрий Иванович Менделеев  
 И. Иван Тихонович Посошков  
 К. Климент Аркадьевич Тимирязев  
 Л. Николай Иванович Пирогов

	Имя	Объяснение
1.		
2.		

**5. [2 балла]**

Соотнесите имена авторов исторических трудов и их названия. Ответ оформите в виде таблицы.

	Историки		Названия трудов
1.	С.М.Соловьев	А.	«История Пугачева»
2.	М.В.Ломоносов	Б.	«История России с древнейших времен»
3.	Г.Ф.Миллер	В.	«Грань веков»
4.	Н.Я.Эйфельман	Г.	«Древняя Российская история от начала Российского народа до кончины великого князя Ярослава Первого или до 1054 года»
5.	А.С.Пушкин	Д.	«История Сибири»

1	2	3	4	5

**6. [5 баллов]**

Как известно, Смоленск, самый западный из русских городов, сначала был независимым княжеским столом, а затем несколько раз переходил из рук в руки в ходе войн между Россией и Литвой, а затем Польско-Литовским государством. Определите, в чьих руках он был в момент следующих событий:

- А. Захват Москвы Дмитрием Шемякой
- Б. Заключение Нерчинского договора
- В. Издание Манифеста о вольности дворянской
- Г. Осада Пскова Стефаном Баторием
- Д. Смерть Александра Невского
- Е. Батыево нашествие
- Ж. Рождение Ивана Грозного
- З. Присоединение Новгорода к Московскому государству
- И. Избрание на царство Михаила Федоровича Романова
- К. Грюнвальдская битва

Независимое княжество	В составе России	В составе Великого княжества Литовского и Польско-Литовского государства

### 7. [3 балла]

Верны ли следующие суждения? Ответ оформите в виде таблицы:

1. По условиям крестьянской реформы 1861 г. размер выкупа крестьянами своих наделов определялся не на основе рыночной стоимости земли, а исходя из величины прежде выплачиваемого ими оброка.
2. «Магазинами» в первой половине XIX в. назывались государственные продовольственные склады, создававшиеся на случай неурожая.
3. По условиям реформы 1861 г. вплоть до завершения выкупной сделки крестьяне не могли владеть собственностью, заключать сделки и защищать свои интересы в суде.
4. Указ об «обязанных крестьянах» предоставлял им лишь право пользования своими наделами и фиксировал объем повинностей в пользу помещика. Ни личной свободы, ни права собственности на землю он крестьянам не давал.
5. Первый Секретный комитет, в котором был поставлен вопрос об отмене крепостного права, созывается при Николае I.

Верно	Неверно

### 8. [8 баллов]

Перед Вами – цифры выплавки чугуна на заводах России. Изучите таблицу.

	Урал	Другие районы (без Польши)	Всего
1725	595	220	815
1750	1424	585	2009
1800	7939	1849	9788
1850	Нет данных		16352
1870	14797	3764	18561
1891	29924	21634	51558
1898	43539	72391	115930

1. Выделите периоды наиболее бурного роста российской тяжелой металлургии (четыре временных отрезка), назовите их даты.

---

---

2. Определите, в каких районах в первую очередь происходил этот рост, и дайте ему краткое объяснение.

---

---

---

---

---

3. Определите периоды наиболее медленного роста (два временных отрезка), дайте этому объяснение.

---

---

---

---

---

### 9. [8 баллов]

Многое об истории нашей страны можно узнать из пословиц и поговорок. Еще Николай Михайлович Карамзин в своей «Истории государства Российского» неоднократно приводит их как свидетельство современника о том или ином событии: «Ныне умники *пишут*; в старину только *говорили*... Ныне живут мертвые в книгах, тогда жили в пословицах». Попробуйте и Вы «разговорить» известные пословицы и поговорки и на их основании ответить на следующие вопросы:

- 1) Реакцией на какие события явилась эта пословица (поговорка)? Когда произошли эти события?
- 2) Какое значение эта пословица (поговорка) имеет в современном русском языке? В каком смысле и в каких ситуациях употребляется?

#### А. «Шемякин суд»

1)-

---

---

---

---

---

---

---

---

---

---

2)-

---

---

---

---

---

---

---

---

---

---

---

---

**Б. «Филькина грамота»**

1)-

---

---

---

---

---

---

---

---

---

---

---

---

2)-

---

---

---

---

---

---

---

---

---

---

---

---

**В. «Долгий ящик»**

1)-

---

---

---

---

---

---

---

---

---

---

---

---

2)-

---

---

---

---

---

---

---

---

---

---

---

---

**Г. «Призвать варягов».**

---

1)-

---

---

---

---

---

---

---

---

---

---

2)-

---

---

---

---

---

---

---

---

---

---

### 10. [10 баллов]

Произведения замечательных русских художников служили и служат источником вдохновения для многих поэтов. Перед Вами несколько фрагментов стихотворений, посвященных выдающимся художникам и их полотнам, а также картины самих художников. Выполните следующие задания:

Ознакомьтесь со стихотворениями и иллюстрациями и заполните пропуски в тексте, отмеченные цифрами.

Заполните таблицу.

#### А. Искусства мирные трофеи

Ты внес в отеческую сень,  
И был (1)  
Для русской кисти первый день.

(1–название

картины) \_\_\_\_\_

Б. Она давно прошла – и нет уже тех глаз,  
И той улыбки нет, что молча выражали  
Странанье – тень любви, и мысли – тень печали...  
Но красоту ее (2) спас.

(2–фамилия

художника) \_\_\_\_\_

В. А вот и флигель (3),  
Художник милый здесь живет,  
Встает он очень-очень рано  
И тотчас чай китайский пьет...

(3–фамилия

художника) \_\_\_\_\_

Г. Ты помнишь, как из тьмы былого,  
Едва закутана в атлас,  
С портрета (4) снова  
Смотрела (5) на нас?

(4-фамилия  
художника)\_\_\_\_\_

(5-фамилия  
изображенной на портрете)\_\_\_\_\_

Д. Поседевшие в лунном сиянье леса  
В дреме трепетной ночь до утра коротают.  
Серебристой парчой серебрится река...  
Белой лебеди лик – лунный лик проплывает.

Стихотворение (буква)	Художник	№ картины и ее название

1.



2.



3.



4.



5.





6.



### 11. [10 баллов]

Перед Вами фрагменты мирных договоров России и Турции, заключенных во второй половине XVIII – XIX вв. Вспомните названия и годы подписания этих договоров; расположите их в хронологическом порядке. Затем установите соответствие фрагментов текста и названий договоров. Впишите результат в данную ниже таблицу

*Пограничные статьи договоров.*

А. Границей между обеими империями по-прежнему будет река Прут от самого ее впадения в Молдавию до соединения с Дунаем. Оттоль черта граничная долженствует следовать течению Дуная до впадения Георгиевского гирла в море, так, что все острова, образуемые различными рукавами сей реки, будут принадлежать России; правый же ее берег по-прежнему останется во владении Порты Оттоманской. [...]

Б. Все татарские народы: крымские, буджатские, кубанские, едисанцы, жамбуйлуки и едичкулы, без изъятия от обеих империй имеют быть признаны вольными и совершенно независимыми от всякой посторонней власти [...] Замок Кинбурн, лежащий на устье реки Днепра, с довольным округом по левому берегу Днепра и с углом, который составляет степи, лежащие между рек Буга и Днепра, остается в полное, вечное и непрекословное владение Российской империи... Крепости Еникале и Керчь [...] остаются в полное, вечное и непрекословное владение Российской империи.

В. Вознаграждение за войну, а равно убытки, причиненные России, которые е.в. император всероссийский требует и которые Блистательная Порта обязалась ему уплатить [составляет...] тысяча четыреста десять миллионов рублей.

Принимая во внимание финансовые затруднения Турции и сообразуясь с желанием е.в. султана, император всероссийский соглашается заменить уплату большей части исчисленных в предыдущем параграфе сумм следующими территориальными уступками:

а) Тульчинский санджак, то есть уезды (казы): Килии, Сулины, Махмудие, Исакчи, Тульчи, Мачина, Бабадага, Гирсова, Кюстендже и Меджидие, а равно острова Дельты и Змеиный остров. Не желая присоединять себе означенной территории и островов Дельты, Россия предоставляет себе променять их на отчужденную от нее трактатом 1856 года часть Бессарабии, граничащую с юга руслом Килийского рукава и устьем Старого-Стамбула [...]

б) Ардаган, Карс, Батум, Баязид и территория до Саганлуга.

Г. Трактат мира 1774 года июля 10-го [...]; изъяснительная конвенция 1779 года марта 10-го [...]; трактат торговли 10 июня 1783-го [...], и акт, объясняющий присоединение к Российской империи Крыма и Тамани, и что границей есть река Кубань, 1783 года декабря 28-го дня [...], силой сего мирного договора подтверждаются во всех их статьях, исключая те только, которые сим трактатом или же и прежними в одном после другого отменены, и обе Высокие Договаривающиеся Стороны обязуются оные свято и ненарушимо содержать, и с доброй верой и точностью исполнять. [...] между империей Всероссийской и Портой Оттоманской пребудет границей река Днестр

Д. Постановлено, что река Прут со входа ее в Молдавию до соединения ее с Дунаем и левый берег Дуная с сего соединения до устья Килийского и до моря будут составлять границу обеих империй, для коих устье сие будет общее[...] Кроме границы Прута, границы со стороны Азии и других мест восстанавливаются совершенно так, как оные были прежде до войны.

	Год	Название	Фрагмент текста о границах
1			
2			
3			
4			
5			

## 12. [20 баллов]

Перед Вами – российские и советские денежные купюры XIX – XX вв.; даты на них закрыты черными прочерками. Соотнесите их с названными ниже датами выпуска и обоснуйте свою датировку.

1



2



3

10.000.000

Серия АА.

Руб. 10.000.000.

Обязательство Российской Социалистической Федеративной Советской Республики.

Предъявителю сего уплачивается десять миллионов рублей существующими расчетными знаками во всех Приходе-Расходных Кассах Народного Комиссариата Финансов, Тубфинотделов и Уфинотделов Р. С. Ф. С. Р.

№000000

Народный Комиссар Финансов *И. Кривов*

Заведывающий отделом денежн. и расчетн. знаков *М. Г. Гомин*

Главный Бухгалтер *Ф. Замин*

Настоящее обязательство подлежит обмену на расчетные знаки вне всякой очереди. Настоящее обязательство имеет хождение в течение [redacted] гт. наравне с существующими расчетными знаками Республики. После 1 января [redacted] года обмен обязательств на расчетные знаки производится лишь в течение шести льготных месяцев, т. е. до 1 июля [redacted] года. После 1 июля [redacted] года обязательства считаются не подлежащими оплате.

4

ПОДЕЛКА БИЛЕТОВ  
БАНКА РОССИИ  
ПРЕСЛЕДУЕТСЯ ПО ЗАКОНУ

50000

50000

ЗП 9369370

ЗП 9369370

ПЯТЬДЕСЯТ ТЫСЯЧ РУБЛЕЙ


5





6

**БИЛЕТ ГОСУДАРСТВЕННОГО БАНКА С.С.С.Р.**





# ТРИ ЧЕРВОНЦА



*Три червонца содержат  
5зас. 42,72 зр. (23,23 зр.) чистого золота.  
Банковский билет подлежит размену  
на золото. Нормы размена устанавли-  
ваются особым правительственным актом.  
Банковые билеты обеспечиваются в полном размере  
золотом, драгоценными металлами, устойчивой  
иностранной валютой и проч. активами Госбанка.  
Примечание:*

7

**ГОСУДАРСТВЕННЫЙ КАЗНАЧЕЙСКИЙ БИЛЕТ СССР**





000000 AA

# Три рубля

000000 AA



8

**БИЛЕТ ГОСУДАРСТВЕННОГО БАНКА С.С.С.Р.**


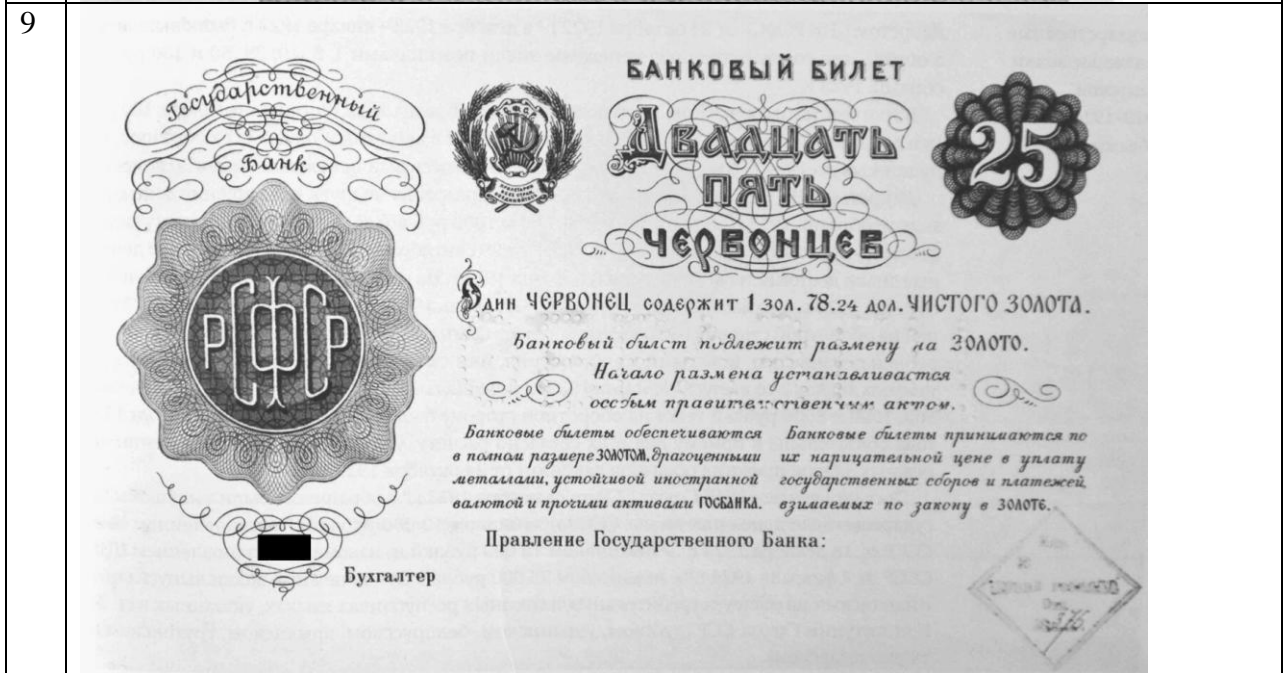




БАНКОВСКИЕ БИЛЕТЫ  
 ОБЕСПЕЧИВАЮТСЯ ЗОЛОТОМ,  
 ДРАГОЦЕННЫМИ МЕТАЛЛАМИ  
 И ПРОЧИМИ АКТИВАМИ  
 ГОСУДАРСТВЕННОГО БАНКА

# Три рубля





Год	№	Объяснение датировки
-----	---	----------------------

	фрагмента	
1866		
1898		
1917		
1921		
1922		
1924		
1938		
1961		
1991		
1993		

**13. [5 баллов]**

Ответьте на вопросы по истории Великой Отечественной войны. Ответ оформите в виде таблицы.

1. Кто является автором плаката «Родина-мать зовет!»?

- А) А. Дейнека.
- Б) Б. Ефимов.
- В) И. Тоидзе.
- Г) В. Дени.

2. Слова какой известной песни родились из личного письма поэта-фронтовика А. Суркова к жене?

- А) «В лесу прифронтовом».
- Б) «Землянка».
- В) «Темная ночь».
- Г) «Огонек».

3. Кто является автором стихотворения «Жди меня»?

- А) А. Твардовский.
- Б) С. Михалков.
- В) К. Симонов.
- Г) С. Гудзенко.

4. Кто является автором музыки песни «Священная война»?
- А) А. Александров.  
 Б) Н. Богословский.  
 В) В. Соловьев-Седой.  
 Г) М. Блантер.
5. Кто является режиссером-постановщиком фильма «В 6 часов вечера после войны»?
- А) С. Герасимов.  
 Б) Г. Александров.  
 В) И. Пырьев.  
 Г) А. Роом.

1.	2.	3.	4.	5.

**14. [4 балла]**

Перед Вами фрагменты источников, повествующие о знаменательных событиях в истории Смоленска. Определите, о каких именно событиях говорится в каждом фрагменте, проведите датировку (с точностью до года) и расположите фрагменты в хронологической последовательности.

**А.** «Смоленские стены выведены опытным инженером так искусно, что при них под землей находятся тайные ходы, где все слышно, куда ни проводили подкопы. Пользуясь ими, москвитяне подрывались из крепости под основание стен и либо встречались с нашими, либо подводили мины под наши подкопы и, взорвав оные порохом, работы истребляли, а людей захватывали и душили землей».

---



---

**Б.** «И пришед той царь с великою ратию на богоспасаемый град Смоленск, и ста от града за 30 поприщ, и многи святыя церкви пожже и христиан поби и твердо вооружашеся на град той.

Людие же бяху в велицей скорбе, неисходно пребывающе в соборной церкви пречистыя богородицы; умильно вопиюще с плачем великим и со многими слезами ко всемогущему богу и пречистой его богоматере и ко всем святым, еже сохранитися граду тому от всякого зла.

Се же бысть некое смотрение божие ко гражданам. Вне града бысть близ за Непр рекою в Печерстем монастыри преславно явися пречистая богородица понамарю тоя церкви и рече: "О человеце божий, скоро изыди ко оному кресту, идеже молится угодник мой Меркурий, и рцы ему: "Зовет тя божия мати».

---



---

**В.** «В этом сражении ... русские воины - смоляне, составлявшие три хоругви, упорно сражались и одни не приняли участие в бегстве, заслужив этим бессмертную славу. Хотя один полк и был разбит, а его знамя свалено на землю, два других полка, как подобает мужам и воинам, сражались врукопашную и вышли победителями, соединившись потом с польскими войсками».

---



---

**Г.** «А про боярина про Михаила Борисовича Шеина сказал, что боярин Михаил Борисович Шеин с королем помирился февраля в 16 день в неделю, в самое масляное заговенье, а съезжались-де под Смоленском на Скворанкове горе целую неделю... а договаривались на



том, что боярина Михаила Борисовича Шеина с государевыми ратными людьми, с конными и с пешими, и с немцами отпустить к государю, а наряд, и зелье, и свинец и всякую государеву казну отдать королю».

Последовательность: \_\_\_\_\_

**15. [12 баллов]**

Перед Вами – иностранная карта России начала XVII века, составленная на основе русской карты 1603 г.

Академик Рыбаков писал о ней, что она «содержит несколько последовательных хронологических напластований». Это означает, что карта не отражает ситуации на какой-то конкретный момент: например, за пределами границ России могут быть отмечены города, возникшие только после включения этих территорий в ее состав и т.п. Попробуйте выявить эти разновременные данные. Ответьте на следующие вопросы.

1. На карте присутствует целый ряд городов, построенных в период, когда Борис Годунов был правителем при Федоре Ивановиче, и во время его царствования. Найдите 5 таких городов, желательно из разных регионов, учитывая, какие районы страны осваивались в это время.

1	
2	
3	
4	
5	

2. На карте границы России в Среднем Поволжье даны не на 1603 г., а на значительно более раннее время. На какое? Ответ кратко обоснуйте. Хорошо, если Вам удастся назвать две даты, верхнюю и нижнюю.

Даты:	
-------	--

Обоснование:

---

---

---

---

---

---

---

---

---

---

---

---

---

---

---

---

---

---

---

---

---

---

---

---

---



