

ВСЕРОССИЙСКАЯ ОЛИМПИАДА ШКОЛЬНИКОВ  
ПО ИСТОРИИ 2016–2017 уч. г.  
МУНИЦИПАЛЬНЫЙ ЭТАП

8 класс


***В заданиях 1–3 дайте один верный ответ. Ответ внесите в таблицу в бланке работы.***

**1.** Когда был издан документ, отрывок из которого представлен ниже?  
«...дали мы перед Богом свое согласие и настоящей хартией нашей подтвердили за нас и за наследников наших на вечные времена, чтобы Английская церковь была свободна и владела своими правами в целости и своими вольностями неприкосновенными, что явствует из того, что свободу выборов, которая признается важнейшей и более всего необходимой Английской церкви, мы по чистой и доброй воле, еще до несогласия, возникшего между нами и баронами нашими, пожаловали и грамотой нашей подтвердили...»

- |            |            |
|------------|------------|
| 1) 1122 г. | 3) 1265 г. |
| 2) 1215 г. | 4) 1302 г. |

**2.** Кто является автором приведённого ниже фрагмента?  
«А некоторое время спустя проверил царь Магмет судей своих, как они судят, и доложили царю про их лихоимство, что они за взятки судят. Тогда царь обвинять их не стал, только повелел с живых кожу ободрать. И сказал так: “Если тела их опять обростут, тогда им та вина простится”. А кожи их велел выделать и ватой велел их набить, и написать повелел на кожах их: “Без таковой грозы невозможно в царстве правду ввести”. <...> Невозможно царю без грозы править, как если бы конь под царем и был без узды, так и царство без грозы».

- |                    |                    |
|--------------------|--------------------|
| 1) Ермолай-Еразм   | 3) Максим Грек     |
| 2) Андрей Курбский | 4) Иван Пересветов |



**3.** Кто является автором текста, отрывок из которого приведён ниже?  
«...45. Должно учить христиан: тот, кто видя нищего и пренебрегая им покупает индульгенции, не папское получит прощение, но гнев Божий навлечет на себя. 46. Должно учить христиан: если они не обладают достатком, им вменяется в обязанность оставлять необходимое в своем доме и ни в коем случае не тратить достояние на индульгенции. 47. Должно учить христиан: покупка индульгенций – дело добровольное, а не принудительное».

- |                 |                   |
|-----------------|-------------------|
| 1) Мартин Лютер | 3) Томас Мюнцер   |
| 2) Жан Кальвин  | 4) Игнатий Лойола |

**Всего 6 баллов за задания 1–3.**

***В заданиях 4 и 5 выберите несколько верных ответов из предложенных.  
Ответы внесите в таблицу в бланке работы.***


**4.** Какие из перечисленных монархов возглавляли европейские государства в период Тридцатилетней войны?

- |                   |                     |
|-------------------|---------------------|
| 1) Генрих III     | 4) Густав II Адольф |
| 2) Стефан Баторий | 5) Людовик XIII     |
| 3) Фердинанд II   | 6) Иосиф II         |

**5.** Какие из перечисленных лиц выступили руководителями Великого посольства 1697–1698 гг.?

- |                  |                       |
|------------------|-----------------------|
| 1) Ф.Я. Лефорт   | 4) Г.И. Головкин      |
| 2) П.А. Толстой  | 5) Ф.Ю. Ромодановский |
| 3) П.Б. Возницын | 6) Ф.А. Головин       |

**Всего 6 баллов за задания 4, 5.**



**6.** Перед Вами перечень ныне существующих зданий, созданных тремя различными российскими архитекторами XVIII века. Запишите в верхнюю строку таблицы в бланке работы фамилии архитекторов, а в нижнюю – порядковые номера сооружений, созданных соответствующими архитекторами.

- 1) Зимний дворец в Санкт-Петербурге
- 2) собор Петропавловской крепости
- 3) Екатерининский дворец в Царском Селе
- 4) здание Сената в Московском Кремле
- 5) Петровский путевой дворец в Москве
- 6) собор Смоленского монастыря
- 7) здание Благородного собрания в Москве
- 8) Летний дворец Петра I
- 9) здание Двенадцати коллегий

**Всего 12 баллов.**

**7.** Дайте краткое обоснование ряда (что объединяет перечисленные элементы) и укажите, какой из элементов является лишним по данному основанию.

7.1. 1096–1099, 1189–1192, 1202–1204, 1236–1242.

7.2. М. Робеспьер, Ж.-П. Марат, О.Г. Мирабо, Л.-А. Сен-Жюст, Ж. Кутон.


**Всего 6 баллов.**

**8.** По какому принципу образованы ряды? Дайте максимально точный ответ.

8.1. А.Д. Басманов, Ф.А. Басманов, А.И. Вяземский, В.Г. Грязной, Г. Штаден.

8.2. Екатерина Арагонская, Анна Болейн, Джейн Сеймур, Анна Клевская, Екатерина Говард, Екатерина Парр.

**Всего 4 балла.**



**9.** Установите соответствие между событиями отечественной и зарубежной истории, произошедшими в одном и том же веке. Запишите в таблицу выбранные цифры под соответствующими буквами.

**СОБЫТИЕ ОТЕЧЕСТВЕННОЙ  
ИСТОРИИ**

- А) опричнина
- Б) междоусобная война Василия II с Юрием Звенигородским и его сыновьями
- В) смерть Дмитрия Донского
- Г) учреждение «русского для представления трагедий и комедий театра» в Петербурге

**СОБЫТИЕ ЗАРУБЕЖНОЙ  
ИСТОРИИ**

- 1) начало Семилетней войны
- 2) битва при Креси
- 3) война Алой и Белой розы
- 4) период Фронды во Франции
- 5) Аугсбургский религиозный мир

**Всего 8 баллов.**

**10.** Установите соответствие между орденом и правителем, при котором он было учреждён в России. Запишите в таблицу выбранные цифры под соответствующими буквами.


**ОРДЕН**

- А) орден Святой Анны
- Б) орден Святого Александра Невского
- В) орден Святого Иоанна Иерусалимского
- Г) орден Святого Владимира

**ПРАВИТЕЛЬ**

- 1) Павел I
- 2) Анна Иоанновна
- 3) Елизавета Петровна
- 4) Екатерина I
- 5) Екатерина II

**Всего 8 баллов.**




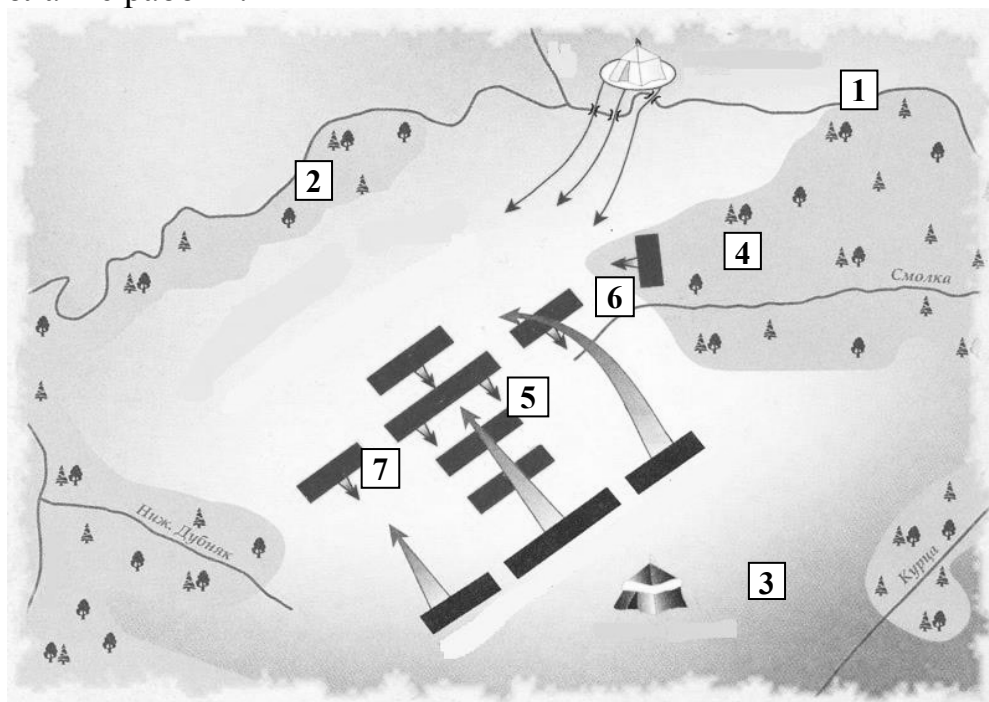
**11.** Определите пропущенные в тексте названия, слова, имена, даты, обозначенные порядковыми номерами. При необходимости при порядковых номерах даются пояснения о характере требуемой вставки. Необходимые вставки впишите под соответствующими номерами в таблицу в бланке работы.

В 1762 году император (**1 – имя**) обнародовал манифест о вольности (**2 – сословие**). Этот документ поставил на повестку дня проблему освобождения крепостных крестьян. Однако пришедшая в том же году к власти (**3 – имя**) на радикальные перемены не решилась. Более того, в (**4**) году был издан указ, дававший право помещикам ссылать крепостных в (**5 – территория**). Через (**6**) лет после подавления в (**7**) году мощного восстания под предводительством (**8 – имя**) были закрепощены крестьяне на (**9 – территория**). Последние годы XVIII столетия связаны с правлением (**10 – имя**), который ограничил барщину (**11**) днями в неделю, но продолжил массовое закрепощение крестьян.

Пришедший в (**12**) году к власти Александр I был воспитан швейцарцем (**13 – имя**) на идеалах Просвещения. В (**14**) году он обнародовал указ о (**15 – термин**) хлебопашцах, а затем поручил своим сановникам разработку проектов отмены крепостного права. Императору удалось решить эту задачу в отношении (**16 – территория**), но в масштабах остальной страны ничего не изменилось. Лишь император (**17 – имя**) сумел отменить крепостное право.

**Всего 10 баллов.**

**12.** Внимательно рассмотрите схему и выполните задания. Ответы внесите в таблицы на бланке работы.




**12.1.** Заполните пропуски в предложениях. Ответ внесите в таблицу № 12.1 в бланке работы.

- А) На карте отражён ход \_\_\_\_\_ битвы, состоявшейся в \_\_\_\_\_ году.
- Б) Реки, обозначенные цифрами \_\_\_\_ и \_\_\_\_, – это Непрядва и Дон соответственно.
- В) Полк, обозначенный цифрой \_\_\_\_, не выдержал натиска вражеской конницы и стал отходить к Непрядве
- Г) Полком, обозначенным цифрой \_\_\_\_, командовали серпуховской князь Владимир Андреевич и воевода Дмитрий Михайлович Боброк-Волынский.
- Д) В полку, обозначенном цифрой \_\_\_\_, сражался переодетый в великокняжеские доспехи боярин Михаил Бренок.
- Е) Войсками, ставка которых обозначена цифрой 3, командовал \_\_\_\_\_.

**12.2.** Согласны ли Вы с приведёнными утверждениями? Впишите в таблицу напротив порядковых номеров верных утверждений «Верно», напротив ложных утверждений – «Неверно». В случае, если Вы считаете утверждение неверным, дайте краткое обоснование своему ответу. Ответ внесите в таблицу № 12.2 в бланке работы.

- 1) В легендарном поединке, открывшем изображённое на схеме сражение, погибли оба воина.
- 2) Великий князь Дмитрий Иванович сражался как простой воин в сторожевом полку, а затем в большом полку.
- 3) На стороне московского князя в изображённом на схеме сражении выступил великий князь Литовский Ягайло и его старшие братья Андрей и Дмитрий.
- 4) Союзником вражеских войск в изображённом на схеме сражении выступил рязанский князь Роман Ингваревич.
- 5) Потерпев поражение в изображённом на схеме сражении, Мамай вскоре потерпел новое поражение в столкновении с Тохтамышем на реке Калке.
- 6) Автором одного из произведений, посвящённых изображённому на схеме сражению, стал Софроний Рязанец.


**Всего 18 баллов за задание 12.**



**13.** Рассмотрите изображения и выполните задания. Ответы внесите в бланк работы.



1. Назовите элементы государственной символики Российской империи, представленные на изображении.
2. С каким императором связано появление данного изображения? Назовите годы его правления.
3. Какой из перечисленных элементов встречается на гербе только в правление данного императора? Объясните данное обстоятельство.
4. Из предложенных ниже изображений выберите относящиеся по смыслу к правлению монарха, имя которого Вы указали в пункте 2, и запишите их номера. Дайте объяснение Вашему выбору.



1		2	
3		4	
5		6	

Всего 14 баллов за задание 13.





**14.** Внимательно изучите представленный ниже фрагмент исторического источника и ответьте на вопросы к нему.

«Вскоре после наказания Никитичей, того же лета за безумное молчание всего мира по поводу гибели невинных омрачил Господь небо облаками, и такой дождь начался, что все люди пришли в ужас. И прекратились все земледельческие работы, и все проросшие семена сгнили от безмерных вод, льющихся с неба; и 10 дней земля не могла просохнуть. До жатвы побил мороз все, что выросло на полях и в садах. Земля была как огнем опалена. После этого года следующий был еще хуже, так же было и на третий год.

Царь пытался раздавать милостыню, но от этого стало еще хуже. В Москву за раздачами денег из казны отправились тысячи людей. Но на полученные деньги было невозможно прокормиться из-за дороговизны на рынках. Поэтому пришедшие погибали прямо на улицах.

За два года и четыре месяца по велению царя было подсчитано, что в трех братских могилах было похоронено 127 тысяч человек. Но это не всё, поскольку похороненных в 400 церквях никто не считал».

1. Определите **событие**, описанное в представленном выше отрывке из исторического источника, и **датируйте** его.
2. Укажите **имя и фамилию** русского царя, в правление которого произошло данное событие, а также **годы** его правления.
3. Что позволяет Вам определить, что речь идёт именно об этом событии? Найдите в тексте **три** подтверждения.
4. Один ученик, интересующийся историей, ознакомившись с данным отрывком, предположил, что его автором является представитель такой социальной группы российского общества того времени, как духовенство. Опираясь на текст, приведите **два** аргумента в подтверждение этой точки зрения.

**Всего 18 баллов за задание 14.**

**Всего за работу – 110 баллов.**

