

XVIII Всероссийская олимпиада по технологии

Региональный этап

10-11 класс

Уважаемый участник!

Теоретические задания первого тура состоят из 25 заданий, в которых предложены тесты с одним или несколькими правильными ответами. Также предложены теоретические вопросы, на которые следует дать исчерпывающий ответ и творческое задание.

Задача участника: внимательно ознакомиться с предложенными заданиями и выполнить их в строгом соответствии с формулировкой.

Каждый правильный ответ в заданиях с 1 по 24 оценивается в 1 балл.

Задание 25 оценивается в 11 баллов.

Всего за теоретический тур максимальное количество баллов, которое может набрать участник, составляет 35 баллов.

Длительность 1-го тура (теоретического) составляет 1,5 часа (90 минут).

**Задания теоретического конкурса номинации
«Культура дома и декоративно-прикладное творчество»
10-11 класс**

Шифр _____

Технология

1. Прочитайте текст, назовите технологию.

В Лондоне изобретены новые ткани с ароматическими и увлажняющими веществами, а также абсорбентами, устраняющими запах табака. Частицы наноразмеров ароматических веществ размещаются в волокнах тканей. При движении человека содержимое капсул высвобождается, создавая соответствующий аромат.

Ответ: _____

Кулинария

2. Объясните, с какой технологией связан известный фразеологизм: «...на мякине не проведёшь»

Ответ: _____

3. Решите задачу:

Определить количество порций пшённой вязкой каши, которое можно приготовить из 6 кг пшена из расчета порции 200 г, если известно, что соотношение количества крупы и количества готового продукта 1:4.

Решение: _____

4. Назовите способ механической обработки продуктов, заключающийся в частичном разрушении структуры однородной эластичной массы, который применяется для ускорения процесса тепловой обработки продукта в приготовлении кондитерских изделий.

Ответ: _____

5. Название какой ягоды (одной из древнейших пищевых культур, используемых для приготовления большого количества блюд) стало названием модели брюк?

Ответ: _____

6. Впишите пропущенные слова:

Правильно питаться – значит сочетать _____ и _____ пищу в соответствии с возрастом, характером труда, состоянием здоровья.

Ответ: _____

7. Заполните таблицу, используя слова для справок в соответствии с видом обработки пищевых продуктов.

Химическая обработка пищевых продуктов	Физическая обработка пищевых продуктов

Слова для справок: очисткой, поваренной солью, квашением, сахаром, вывариванием, шпикованием.

Материаловедение

8. Предложите исходное сырьё, в процессе преобразования которого можно получить ткани: капрон, нитрон, лавсан.

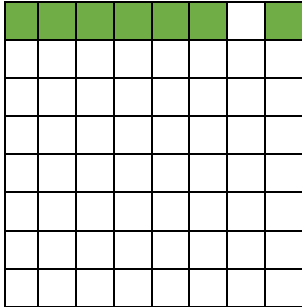
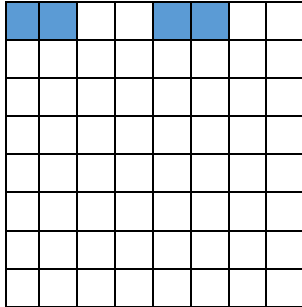
Ответ: _____

9. Объясните, что произойдёт с праздничным платьем из вискозного шелка после стирки в горячей воде и отжима в стиральной машине?

Ответ: _____

10. Заштрихуйте на рисунках схемы переплетений нитей, соответствующие приведённым ниже формулам, начиная со второго ряда:

а) $R = 7/2$; б) $R = 4/4$.

 <p style="text-align: center;">а) атласное</p>	 <p style="text-align: center;">б) рогожка</p>
--	--

11. Объясните почему ткани атласного переплетения, схему которого вы заполняли в вопросе 10, отличаются повышенной стойкостью к истиранию, высокой прочностью, малым коэффициентом трения (хорошо скользят, имеют ровную и гладкую поверхность)?

Ответ: _____

**12. Определите соответствие между годом изобретения и автором изобретения на швейную машину. Запишите результат в таблицу:
XIX в (1850), XVIII в (1755), XV в, XVIII в (1790)**

Карл Вейнзенталь	А. Зингер	Томас Сент	Леонардо да Винчи

13. Выберите из предложенного ряда номер машинной иглы для пошива джинсовых изделий. Аргументируйте ответ.

Способ заточки острия- характеристика, определяющая пригодность швейной иглы для работы с материалами определенных ассортиментных групп с учетом прокола ими полотен без повреждения и без излишних нагрузок на швейную машину.

1	2	3	4	5

Ответ: _____

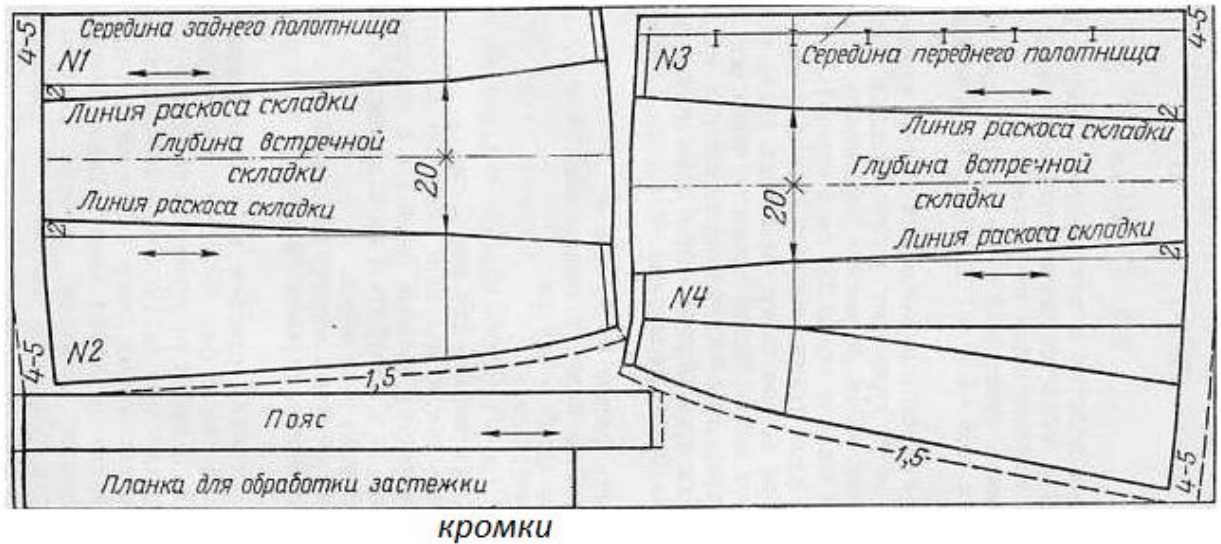
Проектирование и изготовление швейного изделия

14. Ниже представлена раскладка выкроек на ткани юбки двухшовной, с поясом, встречными складками (спереди и сзади) и застежкой на пуговицах спереди.

При построении чертежа была допущена ошибка: мерка Об внесена неверно. Она оказалась меньше на 6 см, чем Об заказчика. Закройщик задумался: как решить эту проблему, сохранив модель заказчика. Предложите вариант решения проблемы.

Выполните расчет для исправления ошибки закройщика.

сгиб ткани



Ответ: _____

15. Назовите критерий посадки швейного изделия на фигуре человека.

--	--	--	--	--	--

16. Легкий путь к стройности — оптические иллюзии в одежде.



Зрительные иллюзии не только помогают визуально корректировать фигуру, но и создавать гармоничный образ.

Вставьте пропущенные слова в полезные советы для создания такого образа:

1. Девушкам с недлинными ногами не рекомендуется носить брюки _____ (какой длины?)

2. Более стройными ноги сделает юбка, которая будет заканчиваться на _____ (каком уровне?). Нельзя носить _____ юбки.

3. Если вы невысокого роста, не носите обувь _____ (с какими?) каблуками, это будет выглядеть непропорционально.

История костюма

17. Определите, что явилось прототипами представленных современных головных уборов в историческом костюме, впишите в таблицу:



Рукоделие

18. Назовите, разновидность какой технологии представлена техникой текстильного коллажирования.

Ответ: _____

19. Выберите из представленного ниже списка слов орнаменты, установите соответствие с их описанием, впишите в таблицу.

№	Наименование	Описание вида декоративного орнамента, элемента
1		Монограмма
2		Европейское название орнамента, построено по принципу бесконечного развития и ритмического повтора геометрических, растительных, или эпиграфических мотивов

3	Виньетка в виде не совсем развёрнутых свитков, с пустым пространством в середине для надписи цифры, эмблемы и т.д.
---	--

Слова для справок: арабеска, вензель, картуш

Интерьер

20. *Определите, с какой целью (кроме бытовых нужд) используют зеркала в интерьере?*

Ответ: _____

21. *Предложите вариант обоев, если вам необходимо визуально уменьшить пространство:*

Ответ: _____

Предпринимательство

22. *Решите задачу.*

Малое предприятие специализируется на выпуске пижам. Годовой объём производства составляет 60 000 шт. Цена единицы продукции – 200 ден. ед. Прямые производственные расходы составляют 100 ден ед/шт. Объём постоянных расходов составляет 3200 ден. ед. Увеличение производства объёма продукции на 25 ден. ед. приводит к снижению месячного объёма продаж на 10 шт, а снижение цены на 25 ден. ед. приводит к увеличению ежемесячных продаж на 20 ед. На основе ряда показателей определите, является ли предприятие эффективным, можно ли не увеличивать предприятию цену на продукцию..

Решение: _____

Электротехника.

23. *Объясните, можно ли охладить помещение кухни, открыв дверцу холодильника*

Ответ: _____

Профессиональное самоопределение, профессиональная деятельность

24. *Вам надо открыть мини-пекарню по выпечке пирогов с последующей реализацией. Перечислите персонал профессионалов (по профессиям), который необходим для функционирования новой мини-пекарни.*

Ответ: _____

Творческое задание

25. *Даны эскиз и детали кроя платья*

1. По предложенным эскизу платья и деталям кроя определите недостающие детали, пронумеруйте эти детали кроя.
2. В таблице перечня деталей кроя напишите наименование деталей, с учетом недостающих, укажите количество деталей.
3. Предложите технологическую последовательность обработки складки, в эскизе или схеме, указав цифрами последовательность выполнения, укажите название складки.
4. Выполните из бумаги в технике оригами модель платья.

1.Пронумеруйте детали кроя

Детали кроя	Эскиз
	 <p data-bbox="810 1048 1506 1476"> Описание модели: Платье отрезное по линии талии. Верх платья на основе прилегающего силуэта, к низу расширенное. Рельефы на центральных частях переда и спинки проходят от проймы до линии талии. По линии талии широкий втачной пояс. Сгибы встречных складок на юбке заутюжены под наклоном. Застёжка на горловине спинки - на маленькую пуговицу, сбоку по линии талии - на потайную молнию. Рекомендуется формоустойчивая купонная ткань. </p>

2. Перечислите детали кроя и их количество:

Таблица 1

№п/п	Наименование детали	Количество деталей

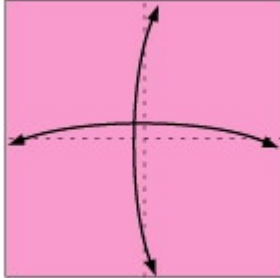
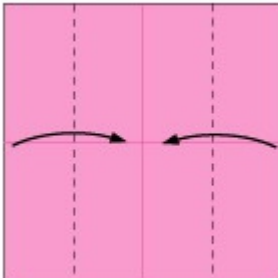

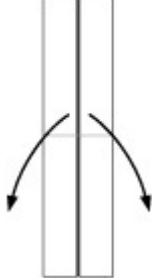
3. Выполните технологическую последовательность обработки складки

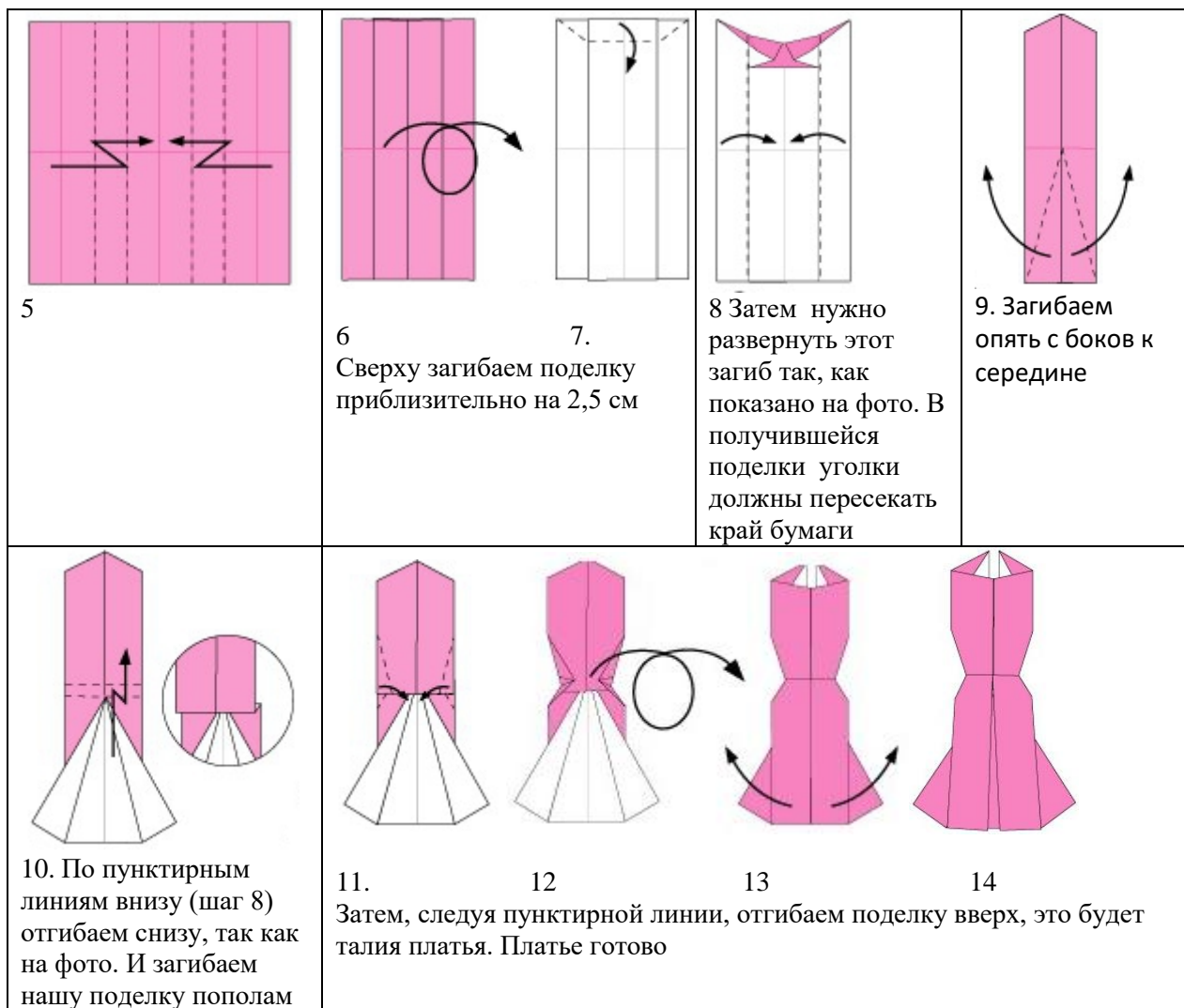
№ п/п	Технологическая последовательность	Эскиз или схема выполнения

Ответ: _____

4. Одно из направлений современной моды - использование дизайнерами оригами в моделях (вид декоративно-прикладного искусства, древнее японское искусство складывания фигурок из бумаги)

Выполните из цветной бумаги для принтера или для оригами 15x15 см в технике оригами модель платья по предложенной схеме:

			
<p>1 Сложите квадратный лист вчетверо, разверните обратно, нанесите линии сгиба с помощью линейки и карандаша</p>	<p>2 Следуя пунктирным линиям загибаем бока к центру нашей поделки, а потом просто разгибаем</p>	<p>3. Еще раз загибаем поделку с боков, к середине, следуя пунктирным линиям.</p>	<p>4. Переверните поделку и расправьте «створки». Посмотрите внимательно на фото и повторите так же со своей поделкой.</p>



Разместите выполненную модель платья на фигуре



Модельный ряд, предложенный ниже иллюстрирует данное направление моды на подиуме

