

ПРИГЛАСИТЕЛЬНЫЙ ШКОЛЬНЫЙ ЭТАП  
ВСЕРОССИЙСКОЙ ОЛИМПИАДЫ ШКОЛЬНИКОВ  
ИСТОРИЯ. 2020 г. 8 класс

**Критерии оценивания выполнения олимпиадных заданий**

***В заданиях 1–3 дайте один верный ответ.***

**1.** Прочитайте отрывок из исторического источника и укажите исторического деятеля, о котором идёт речь в отрывке.

«Телом жена сущи, мужеску мудрость имеюще, просвещена Святым Духом, вразумевше бога истиннаго, творца небу и земли, воставши от прелести идольския, иде в землю Греческую, в Царствующи град, взыскати веры Христовы, идеже цари християнстии и християнство утвердися...»

- 1) Княгиня Ольга
- 2) Ингигерда
- 3) Софья Витовтовна
- 4) Софья Палеолог

**Ответ: 1.**

**Максимум за задание – 1 балл.**

**2.** Прочитайте отрывок из исторического источника и укажите век, когда произошли события истории России, описанные в отрывке.

«Взыде на его место и на его степень некоторый архимандрит, именем Михаил, нарицаемый Митяй, не знаемый здесь, облечеса в сан митрополит и возложи на ся белый клобук <...>. Бе бо преже князь великий Дмитрий Иванович просил того у Алексея митрополита, дабы благословил прежереченнаго Митяя на митрополью...»

- 1) XII в.
- 2) XIII в.
- 3) XIV в.
- 4) XV в.

**Ответ: 3.**

**Максимум за задание – 1 балл.**

**3.** Ниже приведён список названий городов. Укажите тот из них, который НЕ входил в состав Русского государства в XVII веке.

- 1) Киев
- 2) Смоленск
- 3) Минск
- 4) Псков

**Ответ: 3.**

**Максимум за задание – 1 балл.**

***В заданиях 4 и 5 выберите несколько верных ответов из предложенных.***

**4.** Ниже приведён список названий государств. Укажите те государства, которые существовали в Европе к началу XVII века.

- 1) Республика Соединённых провинций
- 2) Северо-американские Соединённые Штаты
- 3) Англия
- 4) Венецианская республика
- 5) Австро-Венгрия
- 6) Сербское княжество

**Ответ:** 134.

**+1 балл за каждое верное положение.**

**-1 балл – за каждое неверное, но не ниже 0 баллов за задание.**

**Максимум за задание - 3 балла.**

**5.** Какие понятия из перечисленных связаны с Великой Французской революцией?

- 1) «Марсельеза»
- 2) «Интернационал»
- 3) якобинцы
- 4) Славная революция
- 5) Жиронда
- 6) табориты

**Ответ:** 135.

**+1 балл за каждое верное положение.**

**-1 балл – за каждое неверное, но не ниже 0 баллов за задание.**

**Максимум за задание - 3 балла.**

**6-7.** Выберите из приведённых ниже вариантов краткое обоснование логического ряда (то, что объединяет перечисленные элементы с исторической точки зрения).

- А) Д.Г. Левицкий                      Б) Ф.С. Рокотов                      В) А.П. Антропов  
Г) И.П. Аргунов                      Д) С.Ф. Ушаков.

**Варианты обоснования:**

- 1) русские художники XVIII века
- 2) современники царя Алексея Михайловича
- 3) русские иконописцы XVII века
- 4) мастера скульптурного портрета XVIII века

**Ответ:** 1.

**Максимум за задание – 1 балл.**

**7.** Укажите, какой из элементов является лишним по выбранному вами основанию.

**Ответ:** Д.

**Максимум за задание – 1 балл.**

**8-9.** Выберите из приведённых ниже вариантов краткое обоснование логического ряда (то, что объединяет перечисленные элементы с исторической точки зрения).

- А) 860      Б) 962      В) 907      Г) 941

**Варианты обоснования:**

- 1) годы военных походов на печенегов
- 2) годы военных походов на половцев
- 3) годы военных походов на Византию
- 4) смена представителей династии Рюриковичей на княжении в Киеве

**Ответ:** 3.

**Максимум за задание – 1 балл.**

**9.** Укажите, какой из элементов является лишним по выбранному вами основанию.

**Ответ:** Б.

**Максимум за задание – 1 балл.**

**10.** Выберите из приведённых ниже вариантов краткое обоснование логического ряда (то, что объединяет перечисленные элементы с исторической точки зрения).

А) Куна    Б) Ногата    В) Резана    Г) Гривна    Д) Векша.

**Варианты обоснования:**

- 1) денежные единицы Древней Руси
- 2) категории зависимого населения Древней Руси
- 3) денежные единицы Византии
- 4) древнерусские меры длины
- 5) древнерусские меры веса

**Ответ: 1.**

**Максимум за задание – 1 балл.**

**11.** Выберите из приведённых ниже вариантов краткое обоснование логического ряда (то, что объединяет перечисленные элементы с исторической точки зрения).

А) Екатеринбург    Б) Нижний Тагил    В) Петрозаводск  
Г) Лодейное Поле.

**Варианты обоснования:**

- 1) крупнейшие горнозаводские центры Урала
- 2) города, включённые в состав Российского государства после похода Ермака Тимофеевича
- 3) города, основанные в правление Петра I
- 4) города, основанные в правление Екатерины I
- 5) города, основанные в правление Екатерины II

**Ответ: 3.**

**Максимум за задание – 1 балл.**

**12.** Установите соответствие между событиями, произошедшими в одном и том же веке в отечественной и всеобщей истории.

| СОБЫТИЯ (ПРОЦЕССЫ)<br>ОТЕЧЕСТВЕННОЙ ИСТОРИИ      | СОБЫТИЯ (ПРОЦЕССЫ)<br>ВСЕОБЩЕЙ ИСТОРИИ |
|--|--|
| Великое посольство Петра Первого                 | казнь Людовика XVI                     |
| поединок Пересвета и Челубея                     | заключение Аугсбургского               |
| восстание под предводительством<br>Е.И. Пугачёва | религиозного мира                      |
| учреждение опричнины                             | начало Столетней войны                 |
|  | окончание Тридцатилетней войны         |
|  | окончание Реконкисты                   |

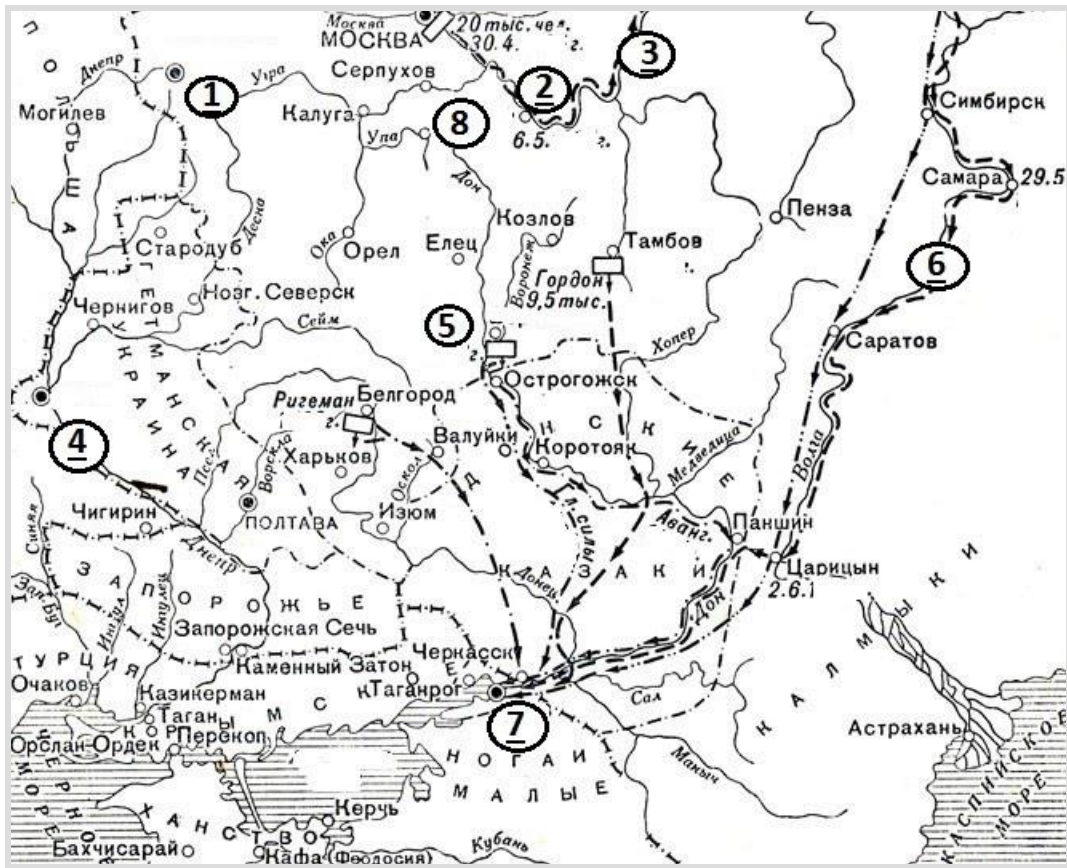
**Ответ:**

| СОБЫТИЯ (ПРОЦЕССЫ)<br>ОТЕЧЕСТВЕННОЙ ИСТОРИИ      | СОБЫТИЯ (ПРОЦЕССЫ)<br>ВСЕОБЩЕЙ ИСТОРИИ        |
|--|---|
| Великое посольство Петра Первого                 | окончание Тридцатилетней войны                |
| поединок Пересвета и Челубея                     | начало Столетней войны                        |
| восстание под предводительством<br>Е.И. Пугачёва | казнь Людовика XVI                            |
| учреждение опричнины                             | заключение Аугсбургского<br>религиозного мира |

**За каждое верное соотнесение – 1 балл.**

**Максимум за задание – 4 балла.**

**13-26.** Рассмотрите представленную схему и выполните предложенные задания.



13-19. Заполните пропуски в предложениях.

*Внимание! Список ответов избыточен.*

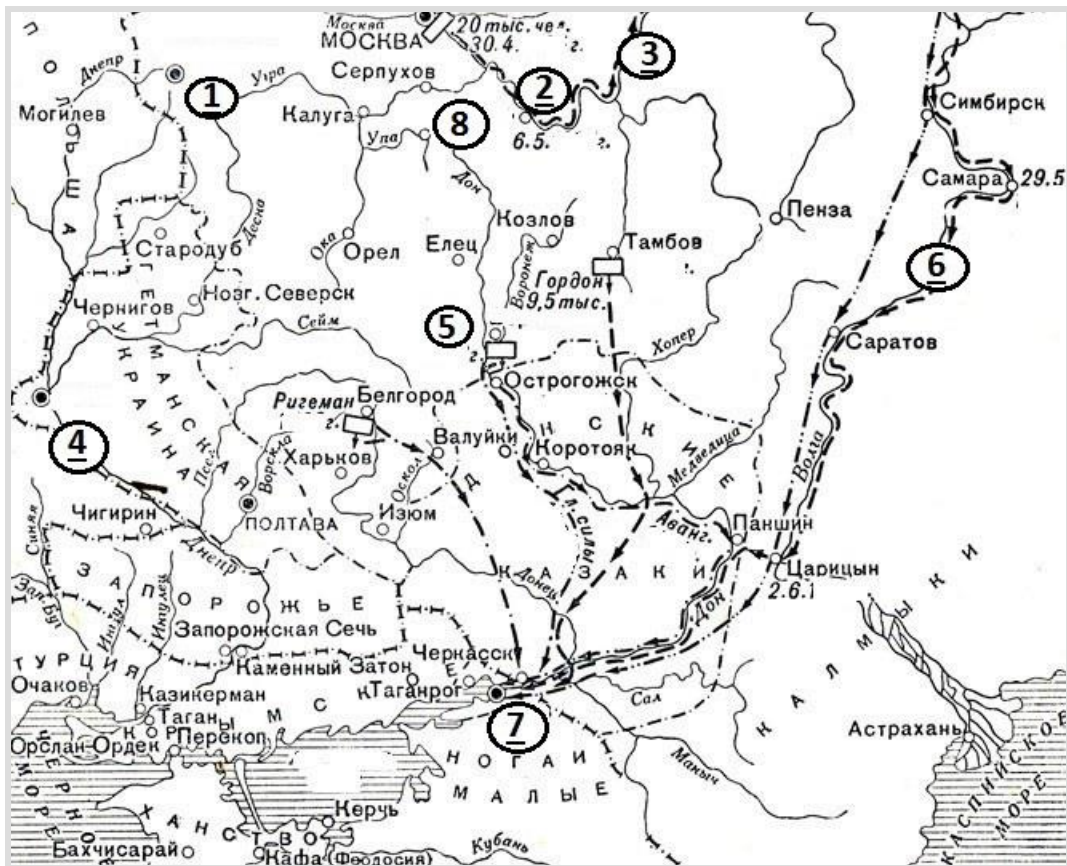
13. Военная кампания, обозначенная на схеме стрелками, получила название «\_\_\_\_\_ походы».
14. Цифрой \_\_ на схеме обозначена река, имевшая также названия «Итиль» и «Ра».
15. Цифрой \_\_ на схеме обозначен город, считающийся родиной русского флота.
16. Цифрой \_\_ на схеме обозначен город, присоединённый к Московскому государству в 1521 году.
17. Цифрой \_\_ на схеме обозначен город, захваченный и удерживаемый казаками в течение 5 лет.
18. Цифрой \_\_ на схеме обозначен город, крепость в котором была выполнена по проекту Ф. Коная.
19. Цифрой \_\_ на схеме обозначен город, вошедший в состав России по условиям Вечного мира.

**Ответ:**

| 13       | 14 | 15 | 16 | 17 | 18 | 19 |
|----------|----|----|----|----|----|----|
| Азовские | 6  | 5  | 2  | 7  | 1  | 4  |

**За каждое верное соотнесение – 1 балл.  
Максимум за задание – 7 баллов.**

**20-26.** Верны ли следующие утверждения? Если утверждение является верным, выберите «да», а если оно является неверным, выберите «нет».



20. На схеме обозначена столица Крымского ханства.
21. Город, обозначенный на схеме цифрой «5», был основан в XVI веке.
22. В городе, обозначенном на схеме цифрой «4», была построена первая на Руси каменная церковь.
23. Город, обозначенный на схеме цифрой «2», получил своё современное название в честь города, уничтоженного в ходе Батыева нашествия в 1237 году.
24. Рядом с городом, обозначенным на схеме цифрой «1», появились первые русские мануфактуры в начале XVII века.
25. Город, обозначенный на схеме цифрой «8», находился на пути «из варяг в греки».
26. Город, обозначенный на схеме цифрой «7», окончательно вошёл в состав России в период правления монарха, руководившего военными действиями, обозначенными на схеме.

**Ответ:**

| 20 | 21 | 22 | 23 | 24  | 25  | 26  |
|----|----|----|----|-----|-----|-----|
| да | да | да | да | нет | нет | нет |

**По 1 баллу за каждый верный ответ.  
Максимум за задание – 7 баллов.**



**27-32.** Перед вами изображения, посвящённые различным событиям в истории России. Укажите годы, когда произошли эти события.

*Внимание! Запишите годы четырьмя цифрами **БЕЗ** букв, пробелов и знаков препинания.*



А)



Б)





В)



Г)



Д)



Е)

**Ответ:**

| Изображение | Год  |
|-------------|------|
| А           | 1380 |
| Б           | 1238 |
| В           | 988  |
| Г           | 1433 |
| Д           | 1478 |
| Е           | 971  |

**За каждый верный ответ – 1 балл. Максимум за 27-32 – 6 баллов.**



**33-36.** Прочитайте отрывок из документа и выполните задания.

«И сказал князь великий: “Сосчитайте, братья, скольких воевод нет, скольких служилых людей”. Говорит боярин московский, именем Михаил Александрович, а был он в полку у Микулы у Васильевича, счётчик был гораздый: “Нет у нас, государь, сорока бояр московских, да двенадцати князей белозерских, да тринадцати бояр – посадников новгородских, да пятидесяти бояр Новгорода Нижнего, да сорока бояр серпуховских, да пятидесяти бояр суздальских, да сорока бояр муромских, да двадцати бояр дмитровских, да семидесяти бояр можайских, а младшим дружинникам и счёта нет; но только знаем: погубло у нас дружины всей двести пятьдесят тысяч и три тысячи, а осталось у нас дружины пятьдесят тысяч”. И сказал князь великий: “Слава тебе, высший Творец, царь небесный, милостивый Спас, что помиловал нас, грешных, не отдал в руки врагов наших, поганых сыроядцев. А вам, братья, князья, и бояре, и воеводы, и младшая дружина, русские сыны, суждено место между Доном и Непрядвой. Положили вы головы свои за землю Русскую, за веру христианскую. Простите меня, братья, и благословите в сей жизни и в будущей!”»

**33.** Назовите событие, результаты которого описаны в отрывке.

*Внимание! Ответы с орфографическими ошибками не засчитываются. Запишите в поле ответа ДВА СЛОВА.*

**Ответ:** Куликовская битва / Мамаево побоище / Донское побоище.

**Максимум за задание – 1 балл.**

**34.** Укажите год, когда произошло это событие.

*Запишите в поле ответа ЧЕТЫРЕ ЦИФРЫ БЕЗ букв, пробелов и знаков препинания.*

**Ответ:** 1380.

**Максимум за задание – 1 балл.**

**35.** Выберите из списка имя, отчество и прозвище великого князя, о котором идёт речь в отрывке.

**Выберите из списка:**

Александр Ярославич Невский  
Василий Дмитриевич Первый  
Дмитрий Юрьевич Шемяка  
Дмитрий Иванович Донской  
Иван Васильевич Грозный

**Ответ:** Дмитрий Иванович Донской.

**Максимум за задание – 1 балл.**

**36.** Летописец перечисляет земли и княжества, представители которых погибли на поле боя. Из названного им перечня укажите четыре города (кроме Москвы), которые в период описываемых событий входили в состав Московского княжества.

**Выберите из списка:**

Белоозеро  
Великий Новгород  
Дмитров  
Можайск  
Муром  
Нижний Новгород  
Серпухов  
Суздаль

**Ответ:** Белоозеро, Дмитров, Можайск, Серпухов.

**+2 балла за каждое верное утверждение.**

**-2 балла – за каждое неверное, но не ниже 0 баллов за задание.**

**За полностью верный ответ – 8 баллов.**

**37.** Летописец перечисляет земли и княжества, представители которых погибли на поле боя. Из названного им перечня выберите город, форма правления в котором отличалась от остальных.

**Выберите из списка:**


Белоозеро  
Великий Новгород  
Дмитров  
Можайск  
Муром  
Нижний Новгород  
Серпухов  
Суздаль

**Ответ:** Великий Новгород.

**Максимум за задание – 1 балл.**

38. Перед вами плакаты, посвящённые событиям Великой Отечественной войны. Расположите плакаты в порядке их появления, от раннего (1) к позднему (8).

А



Б




В



Г



Д




Е





Ж



З



Ответ:

| Порядок проведения операции | Схема |
|-----------------------------|-------|
| 1                           | Г     |
| 2                           | В     |
| 3                           | Е     |
| 4                           | З     |
| 5                           | Б     |
| 6                           | Д     |
| 7                           | Ж     |
| 8                           | А     |

За каждое верное соотнесение – 1 балл.  
Максимум за задание – 8 баллов.

**Итого 59 баллов.**