

ВСЕРОССИЙСКАЯ ОЛИМПИАДА ШКОЛЬНИКОВ
ТРУД (ТЕХНОЛОГИЯ). 2026 г.
ПРИГЛАСИТЕЛЬНЫЙ ЭТАП. 4–5 КЛАССЫ
Профиль «Культура дома, дизайн и технология»
ОТВЕТЫ И КРИТЕРИИ ОЦЕНИВАНИЯ

Максимальная оценка за работу – 20 баллов.

Общая часть

1. (1 балл за полностью верный ответ) Установите соответствие между названиями профессий и рисунками, изображающими представителей этих профессий.

ПРОФЕССИЯ

- 1) портной
- 2) сварщик
- 3) строитель
- 4) повар

ПРЕДСТАВИТЕЛИ ПРОФЕССИЙ

А)



В)



Б)



Г)



Ответ: 1–В, 2–Г, 3–А, 4–Б.

2. (1 балл). При благоустройстве парка был решено посыпать несколько тропинок песком. Длины тропинок равны 5 м, 112 дм, 318 см и 225 см. Определите общую длину тропинок, которые решили посыпать песком. Ответ дайте в сантиметрах.

Ответ: 2163.

Решение:

$$5 \text{ м} + 112 \text{ дм} + 318 \text{ см} + 225 \text{ см} = 500 \text{ см} + 1120 \text{ см} + 318 \text{ см} + 225 \text{ см} = 2163 \text{ см}.$$

3. (1 балл) Как называется старинный русский народный промысел, родившийся в XVII веке в Нижегородской губернии, который представляет собой декоративную роспись деревянной посуды и мебели, выполненную красными, зелёными и золотистыми тонами по чёрному фону?

- А) хохлома**
- Б) гжель
- В) финифть
- Г) майолика



4. (1 балл) 19 августа 1960 года с Байконура стартовал корабль-спутник («Спутник-5»). На его борту находились две собаки. Животные провели на околоземной орбите 25 часов, после чего они благополучно вернулись на Землю. Какие были клички у этих собак?



- А) Дезик и Цыган
- Б) Белка и Стрелка**
- В) Мушка и Пчёлка
- Г) Ветерок и Уголёк
- Д) Сяо Бяо и Шаньшань
- Е) Чернушка и Звёздочка







5. (1 балл за полностью верный ответ) Установите соответствие между старинным и современным оборудованием, выполняющим одну и ту же функцию.

Старинное оборудование		
		
1	2	3
Современное оборудование		
		
А	Б	В

Ответ: 1–Б, 2–В, 3–А.

Специальная часть

6. (1 балл) Рассмотрите предложенные изображения культурных растений. Выберите два изображения, на которых представлены **овощные** культуры.

А		Б	
В		Г	
Д		Е	

Ответ: А, Е.

7. (1 балл) Одно из названий овоща на картинке происходит от итальянского *romò d'oro* – «золотое яблоко». Выберите другое название этого овоща.

- А) тыква
- Б) гранат
- В) апельсин
- Г) томат**
- Д) свёкла



8. (1 балл за полностью верный ответ) Животноводство – это одна из важнейших отраслей сельского хозяйства вообще и России в частности. Выберите отрасли животноводства.

- А) рыбоводство**
- Б) виноградарство
- В) лесоводство
- Г) свиноводство**
- Д) оленеводство**
- Е) овощеводство

9. (1 балл) Искусство приготовления пищи называется

- А) живопись
- Б) ткачество
- В) кулинария**
- Г) батик

10. (1 балл за полностью верный ответ) Вам нужно приготовить завтрак на 5 человек. Рассчитайте необходимое количество продуктов и заполните таблицу.

№	Блюдо / продукт	Количество на 1 человека	Количество на 5 человек
1	Сложный бутерброд:		
	хлеб, ломтик	2	
	колбаса, г	30	
	сыр, г	30	
	зелень, г	10	
2	йогурт, баночка	1	
3	чай чёрный, пакетик	1	
4	сахар, г	5	

Ответ:

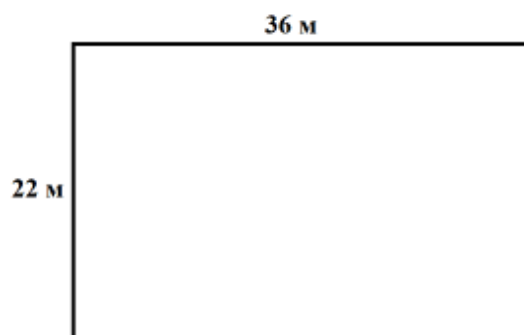
№	Блюдо / продукт	Количество на 1 человека	Количество на 5 человек
1	Сложный бутерброд:		
	хлеб, ломтик	2	10
	колбаса, г	30	150
	сыр, г	30	150
	зелень, г	10	50
2	йогурт, баночка	1	5
3	чай чёрный, пакетик	1	5
4	сахар, г	5	25

11. (1 балл) Для приготовления и хранения готовой пищи **не** следует использовать посуду

- А) из нержавеющей стали
- Б) из жаропрочного стекла
- В) с повреждённой эмалью**

12. (2 балла) Дачный участок имеет форму прямоугольника со сторонами 22 метра и 36 метров. Хозяин планирует обнести его забором из сетки-рабицы. Сколько рулонов сетки-рабицы нужно купить, если длина одного рулона равна 10 метров?

- А) 10 рулонов
- Б) 11 рулонов
- В) 12 рулонов**
- Г) 14 рулонов
- Д) нет правильного ответа



Решение

Периметр участка $2 \times (22 + 36) = 116$ (м). Значит, нужно $116 : 10 = 11,6$ (рулона).

Нужно купить 12 рулонов.

13. (1 балл) Разгадайте ребус. Получите название природного материала для творчества. *В ответ запишите только одно слово в именительном падеже, единственном числе. Ответы с орфографическими ошибками и опечатками не принимаются!*



~~1,2 Г~~

Ответ: глина.

14. (1 балл) Выберите самые толстые нитки из предложенного списка.

- А) № 80
- Б) № 40
- В) № 60
- Г) № 10**

15. (1 балл) Расположите буквы в правильном порядке, разгадайте зашифрованное слово, получите название рукоделия.

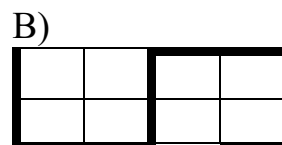
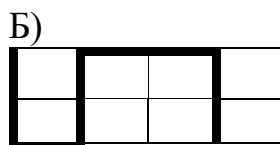
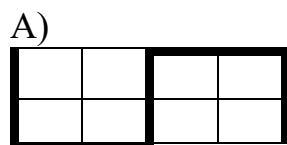
а в в ы и к ш

Ответ: вышивка.

16. На уроке технологии ученица использовала следующий алгоритм из стрелок для орнамента вышивки:

↓↓→↑↑→→↓↓

Какой рисунок у неё получился?



Ответ: Б.

17. Марина получила задание изготовить игольницу-шляпку, изображённую на рисунке. Выберите из предложенного списка материалы, которые ей потребуются.

А) булавки

Б) ленты

В) игла

Г) круг из картона

Д) мел (обмылок)

Е) нитки

Ж) ножницы

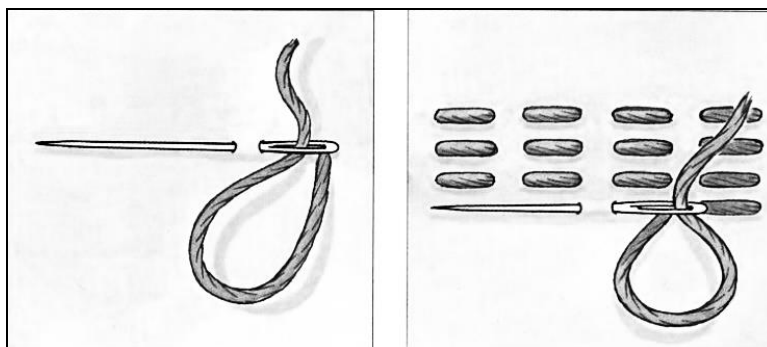
З) синтепон

И) тесьма

К) ткань



18. (1 балл) Как называется такой стежок?



- А) крестообразный
- Б) прямой**
- В) косой
- Г) петельный

19. (1 балл за полностью верный ответ) Установите соответствие между изображениями моделей фартуков и тем, для чего предназначены эти модели.

НАЗНАЧЕНИЕ ФАРТУКА

- А) для работы на кухне
- Б) для детского творчества
- В) для работы в саду
- Г) школьная форма

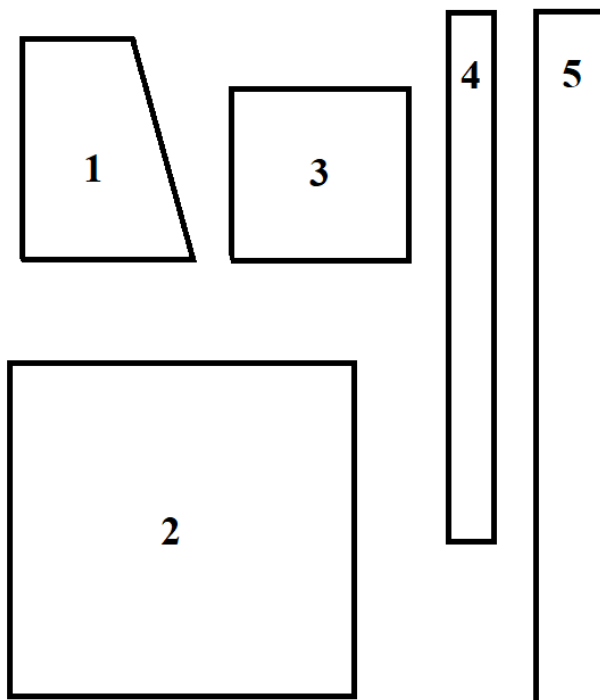
МОДЕЛИ ФАРТУКОВ



Ответ: 1Г, 2В, 3Б.

20. На рисунке изображены детали кроя фартука. Установите соответствие между деталями кроя и их названиями.

Детали кроя фартука



НАЗВАНИЕ ДЕТАЛИ

- А) карман
- Б) пояс
- В) бретель
- Г) нагрудник
- Д) нижняя часть фартука

Ответ:

1	2	3	4	5
Г	Д	А	В	Б