

ВСЕРОССИЙСКАЯ ОЛИМПИАДА ШКОЛЬНИКОВ
ТРУД (ТЕХНОЛОГИЯ). 2026 г.
ПРИГЛАСИТЕЛЬНЫЙ ЭТАП. 4–5 КЛАССЫ
Профиль «Культура дома, дизайн и технология»

Максимальная оценка за работу – 20 баллов.

Общая часть

1. (1 балл за полностью верный ответ) Установите соответствие между названиями профессий и рисунками, изображающими представителей этих профессий.

ПРОФЕССИЯ

- 1) портной
- 2) сварщик
- 3) строитель
- 4) повар

ПРЕДСТАВИТЕЛИ ПРОФЕССИЙ

А)



В)



Б)



Г)



2. (1 балл). При благоустройстве парка был решено посыпать несколько тропинок песком. Длины тропинок равны 5 м, 112 дм, 318 см и 225 см. Определите общую длину тропинок, которые решили посыпать песком. Ответ дайте в сантиметрах.

3. (1 балл) Как называется старинный русский народный промысел, родившийся в XVII веке в Нижегородской губернии, который представляет собой декоративную роспись деревянной посуды и мебели, выполненную красными, зелёными и золотистыми тонами по чёрному фону?

- А) хохлома
- Б) гжель
- В) финифть
- Г) майолика



4. (1 балл) 19 августа 1960 года с Байконура стартовал корабль-спутник («Спутник-5»). На его борту находились две собаки. Животные провели на околоземной орбите 25 часов, после чего они благополучно вернулись на Землю. Какие были клички у этих собак?









- А) Дезик и Цыган
- Б) Белка и Стрелка
- В) Мушка и Пчёлка
- Г) Ветерок и Уголёк
- Д) Сяо Бяо и Шаньшань
- Е) Чернушка и Звёздочка

5. (1 балл за полностью верный ответ) Установите соответствие между старинным и современным оборудованием, выполняющим одну и ту же функцию.

Старинное оборудование		
		
1	2	3
Современное оборудование		
		
А	Б	В

Специальная часть

6. (1 балл) Рассмотрите предложенные изображения культурных растений. Выберите два изображения, на которых представлены **овощные** культуры.

А		Б	
В		Г	
Д		Е	

7. (1 балл) Одно из названий овоща на картинке происходит от итальянского *roto d'oro* – «золотое яблоко». Выберите другое название этого овоща.

- А) тыква
- Б) гранат
- В) апельсин
- Г) томат
- Д) свёкла



8. (1 балл за полностью верный ответ) Животноводство – это одна из важнейших отраслей сельского хозяйства вообще и России в частности. Выберите отрасли животноводства.

- А) рыбоводство
- Б) виноградарство
- В) лесоводство
- Г) свиноводство
- Д) оленеводство
- Е) овощеводство

9. (1 балл) Искусство приготовления пицци называется

- А) живопись
- Б) ткачество
- В) кулинария
- Г) батик

10. (1 балл за полностью верный ответ) Вам нужно приготовить завтрак на 5 человек. Рассчитайте необходимое количество продуктов и заполните таблицу.

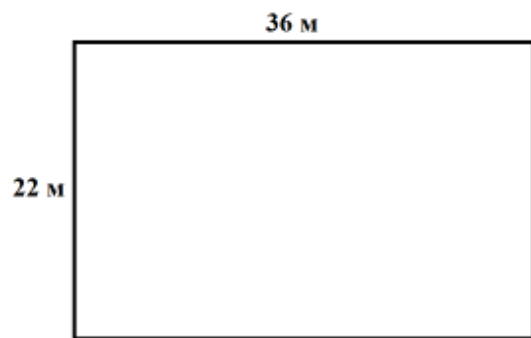
№	Блюдо / продукт	Количество на 1 человека	Количество на 5 человек
1	Сложный бутерброд:		
	хлеб, ломтик	2	
	колбаса, г	30	
	сыр, г	30	
	зелень, г	10	
2	йогурт, баночка	1	
3	чай чёрный, пакетик	1	
4	сахар, г	5	

11. (1 балл) Для приготовления и хранения готовой пицци **не** следует использовать посуду

- А) из нержавеющей стали
- Б) из жаропрочного стекла
- В) с повреждённой эмалью

12. (2 балла) Дачный участок имеет форму прямоугольника со сторонами 22 метра и 36 метров. Хозяин планирует обнести его забором из сетки-рабицы. Сколько рулонов сетки-рабицы нужно купить, если длина одного рулона равна 10 метров?

- А) 10 рулонов
- Б) 11 рулонов
- В) 12 рулонов
- Г) 14 рулонов
- Д) нет правильного ответа



13. (1 балл) Разгадайте ребус. Получите название природного материала для творчества. *В ответ запишите только одно слово в именительном падеже, единственном числе. Ответы с орфографическими ошибками и опечатками не принимаются!*



14. (1 балл) Выберите самые толстые нитки из предложенного списка.

- А) № 80
- Б) № 40
- В) № 60
- Г) № 10

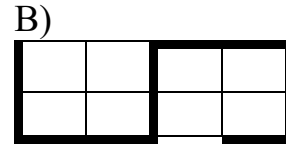
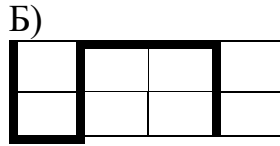
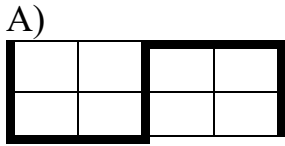
15. (1 балл) Расположите буквы в правильном порядке, разгадайте зашифрованное слово, получите название рукоделия.

а в в ы и к ш

16. На уроке технологии ученица использовала следующий алгоритм из стрелок для орнамента вышивки:

↓↓→↑↑→→↓↓

Какой рисунок у неё получился?

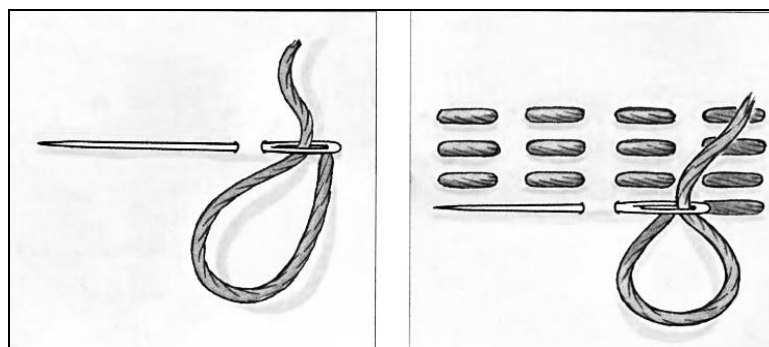


17. Марина получила задание изготовить игольницу-шляпку, изображённую на рисунке. Выберите из предложенного списка материалы, которые ей потребуются.



- А) булавки
- Б) ленты
- В) игла
- Г) круг из картона
- Д) мел (обмылок)
- Е) нитки
- Ж) ножницы
- З) синтепон
- И) тесьма
- К) ткань

18. (1 балл) Как называется такой стежок?



- А) крестообразный
- Б) прямой
- В) косой
- Г) петельный

19. (1 балл за полностью верный ответ) Установите соответствие между изображениями моделей фартуков и тем, для чего предназначены эти модели.

НАЗНАЧЕНИЕ ФАРТУКА

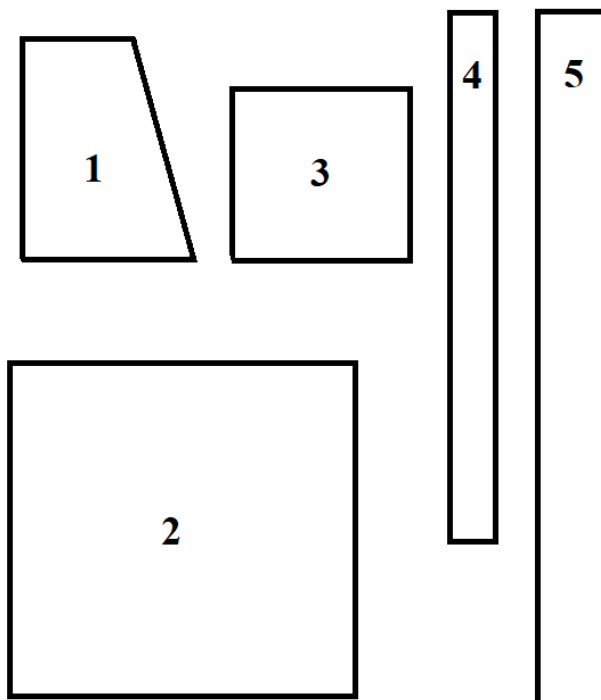
- А) для работы на кухне
- Б) для детского творчества
- В) для работы в саду
- Г) школьная форма

МОДЕЛИ ФАРТУКОВ

		
1	2	3

20. На рисунке изображены детали кроя фартука. Установите соответствие между деталями кроя и их названиями.

Детали кроя фартука



НАЗВАНИЕ ДЕТАЛИ

- А) карман
- Б) пояс
- В) бретель
- Г) нагрудник
- Д) нижняя часть фартука